

NOME _____

DATA ____/____/____

TODAS AS PESSOAS VIAJAM EM SEGURANÇA? TENTA DESCOBRIR.


Depois de teres feito o questionário sobre a utilização do cinto de segurança, analisa os dados que recolheste, fazendo um gráfico. Podes fazê-lo em conjunto com colegas, e com a ajuda do professor ou professora de Matemática.

Depois de teres feito o gráfico, analisa-o e procura tirar conclusões. A maioria das pessoas que entrevistaste viajam em segurança? Ou não estão protegidas corretamente, se houver um acidente?

Partilha as conclusões com a tua turma, lembrando os teus colegas do seguinte:

- Para que serve o cinto de segurança;
- A proteção dos outros passageiros quando usamos o cinto de segurança;
- Como utilizar o cinto corretamente, para ser eficaz e não nos magoar.



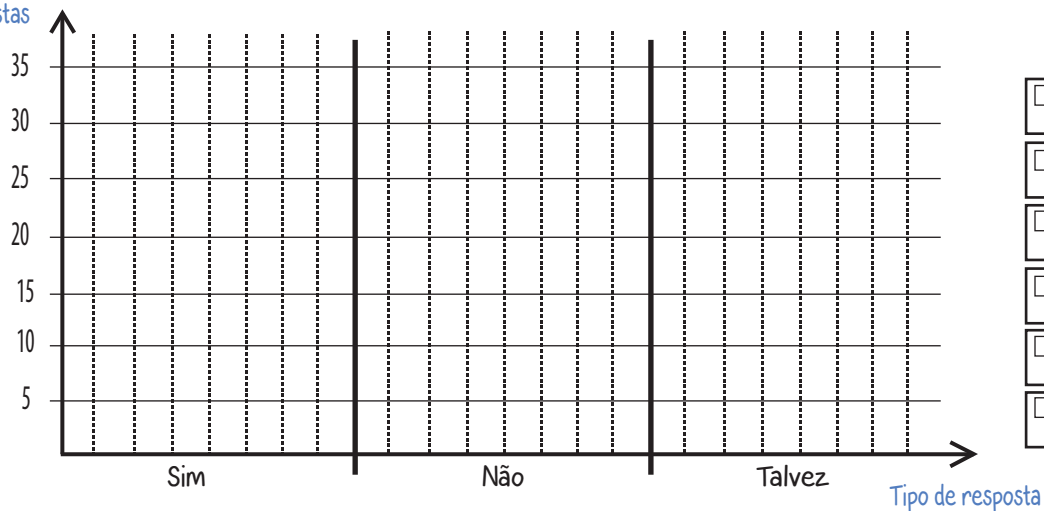


NOME _____

DATA ____/____/____

TODAS AS PESSOAS VIAJAM EM SEGURANÇA? VAI DESCOBRIR.

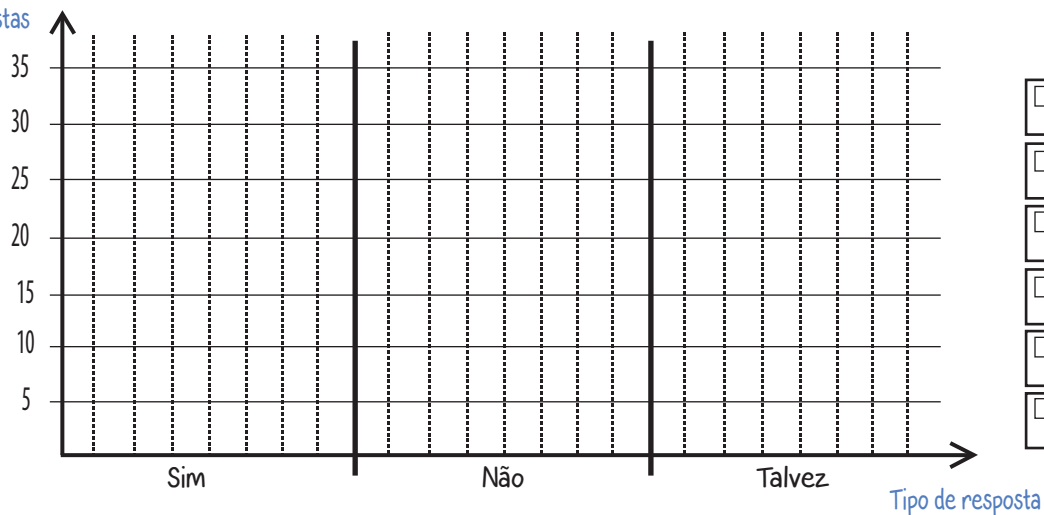
Nº respostas



Perguntas


<input type="checkbox"/>	
<input type="checkbox"/>	
<input type="checkbox"/>	
<input type="checkbox"/>	
<input type="checkbox"/>	
<input type="checkbox"/>	

Nº respostas



Perguntas

<input type="checkbox"/>	
<input type="checkbox"/>	
<input type="checkbox"/>	
<input type="checkbox"/>	
<input type="checkbox"/>	
<input type="checkbox"/>	



NOME _____

DATA ____/____/____

INSTRUÇÕES PARA PREENCHER GRÁFICOS.

- Para cada gráfico tens a possibilidade de recolher os dados de seis perguntas, todas elas localizadas na secção das perguntas. Em cada uma das áreas designadas existe um pequeno quadrado para preencheres com uma cor, facilitando a distinção de cada pergunta no gráfico.
- No gráfico:
 - No eixo do "y" tem-se o número total de respostas obtidas.
 - No eixo do "x" tem-se o tipo de resposta obtida.
 - Cada um dos tipos de resposta está subdividido verticalmente com linhas a tracejado onde serão desenhadas as barras coloridas do gráfico.

